

Pregătire
pentru



EVALUAREA NAȚIONALĂ

MATEMATICĂ
ȘI EXPLORAREA
MEDIULUI













Mirela Mihăescu, Ștefan Pacearcă, Anița Dulman,
Crenguța Alexe, Otilia Brebenel

Clasa a II-a





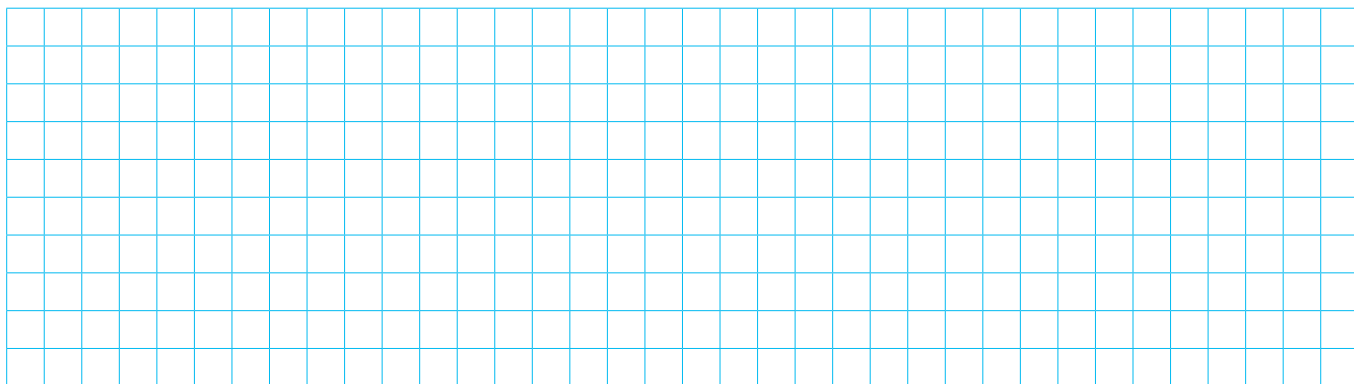

	Testul 1 – La fermă	5
	Testul 2 – La spectacol	11
	Testul 3 – În seră	17
	Testul 4 – Despre Univers	23
	Testul 5 – Despre magneți	29
	Testul 6 – Despre Terra	35
	Testul 7 – Sănătate prin mișcare	41
	Testul 8 – În livadă	47
	Testul 9 – În Delta Dunării	53
	Testul 10 – La Marea Neagră	59
	Răspunsuri	65

3 Pentru a le putea oferi hrana potrivită, bunicul Mircea a așezat iepurii din rasa *Uriășul gri* în cuști, ca în imaginea de mai jos. Câți iepuri din rasa *Uriășul gri* are bunicul, în total? **Calculează prin adunare repetată de termeni egali.**



Scrie, pe spațiul dat, rezolvarea problemei.

(10p.)



4 Bunicul Mircea le-a spus copiilor că, în fiecare zi, dă fiecărui iepure câte 3 morcovi. Câți morcovi mănâncă un iepure în 5 zile?



Încercuiește litera corespunzătoare răspunsului corect.

(5p.)

- A. 8 morcovi
- B. 9 morcovi
- C. 15 morcovi
- D. 18 morcovi


5 Într-un coteț, Tudor a numărat 24 de găini și de 6 ori mai puțini cocoși. Câți cocoși sunt în coteț?

Calculează prin scăderea repetată a aceluiași număr.



Scrie, pe spațiul dat, rezolvarea problemei.

(12p.)



6 Sonia i-a oferit bunicului Mircea un desen.


Cu ce figură geometrică se aseamănă tulpina florii?



Încercuiește litera corespunzătoare răspunsului corect.

(5p.)

- A. cerc
- B. dreptunghi
- C. pătrat
- D. triunghi




7 Pentru un joc, Victor a așezat câteva jetoane cu animalele domestice ca în șirul de mai jos. Ce jetoane urmează în șir?




Încercuiește litera corespunzătoare răspunsului corect.


(5p.)




A.




B.



C.



D.



8 În câte cartoane va așeza bunicul Mircea 64 de ouă, știind că în fiecare carton așază câte 8 ouă?



Încercuiește litera corespunzătoare răspunsului corect.

(5p.)

A. 8

B. 9

C. 56

D. 72


9 Eva le-a arătat colegilor săi un colaj realizat din fotografii de la ferma bunicului Mircea. În ce parte a colajului se află oaia?



Încercuiește litera corespunzătoare răspunsului corect.

(5p.)

- A. în dreapta jos
- B. în dreapta sus
- C. în stânga jos
- D. în stânga sus






10 Pentru a indica ce animale trăiesc la ferma bunicului Mircea, copiii au realizat câte un desen. Ei au așezat desenele pe cartonașe de forme geometrice diferite.



Scrive, pe spațiul dat, numele formei geometrice a cartonașului pe care este lipită imaginea unei găini.

(3p.)



Cartonașul pe care este lipită imaginea unei găini are formă de _____ .

